

第一部分 语言表达能力测试 (A 卷)

(50 题, 每题 2 分, 满分 100 分)

一、 选择题

1. 下面没有错别字的一句是

- A. 三国时代, 英雄倍出, 人才济济。
- B. 做学问既不能急于求成, 又不能墨守成规。
- C. 守军指挥宫被敌人三翻两次的挑衅激怒了。
- D. 有志者, 事竟成, 破釜沉舟, 百二秦关终属楚。

2. 下面加点的词, 意义相同的一组是

- A. ① 这种瓷器比较粗糙, 赶不上江西瓷。  
② 这篇译稿太粗糙, 你重新润色一下。
- B. ① 墙壁粉刷以后, 屋里变得亮堂多了。  
② 问题搞清楚以后, 他心里亮堂多了。
- C. ① 对方的请求刚说完, 他就痛快地答应了。  
② 看着大坝工程一天一个样, 心里真痛快。
- D. ① 海峡是海洋中连接两个相邻海区的狭窄水道。  
② 枝上排列着两列小叶, 腹叶狭窄, 背叶宽大。

3. 下面各句中加点成语使用不恰当的一句是

- A. 从这次测试的情况来看, 大家的计算机水平良莠不齐。
- B. 爱琴海的海岸线非常曲折, 港湾众多, 岛屿星罗棋布。
- C. 球队虽没能出线, 但在比赛中的表现还是差强人意的。
- D. 自古及今, 《楚辞》的评注和研究著作可谓汗牛充栋。

4. 下面各句中没有语病的一句是

- A. 或许有一天我们将会知道究竟这里发生了什么, 以避免这种悲惨事件不再发生。
- B. 我从小学习钢琴和小提琴, 音乐带给我许多别的孩子永远也无法体验到的感受。
- C. 凤凰电视台在美落地, 该台总裁表示凤凰卫视将继续扮演中美之间友谊的桥梁。
- D. 你是我最心爱的人, 这些年虽然我们不在一起, 但我却无时无刻都在思念着你。

5. 下面各句中没有歧义的一句是

- A. 他走了三小时了。
- B. 买房子就送家具。
- C. 县里来了工作组。
- D. 在邮局寄包裹。

6. 下面关于文史知识的表述，错误的一项是
- A. 中国古代思想史上，“陆王学派”的代表是明代陆九渊和王阳明。
  - B. 苏轼是著名书法家，与黄庭坚、米芾、蔡襄并称“宋四家”。
  - C. 欧洲中世纪流行的骑士文学，一般以歌颂爱情为主，多从古希腊、古罗马故事取材。
  - D. 张岱的《湖心亭看雪》、《西湖七月半》是明末小品文的名篇。
7. 宋代诗人陈与义的《襄邑道中》：“飞花两岸照船红，百里榆堤半日风。卧看满天云不动，不知云与我俱东。”这首诗写春天乘船顺风而行，在船上观云的错觉。从全诗看，“百里榆堤半日风”一句的确切意思是
- A. 百里河岸都是榆树，春风吹了半天。描写河道两岸风景之美。
  - B. 百里河岸都是榆树，船在风中行了半天。形容船行时间之久。
  - C. 小船顺风而行，半天时间就已行过百里。形容船行之快。
  - D. 风吹了半天，小船在河中行过了百里。形容路途之长。
8. 苏轼《潮州韩文公庙碑》赞其“文起八代之衰，而道济天下之溺”的“韩文公”是指
- A. 韩非
  - B. 韩信
  - C. 韩世忠
  - D. 韩愈
9. 文学是语言的艺术，塑造生动饱满的人物形象非常重要。下面体现“改造国民性”思想的鲁迅作品和相应人物的一项是
- A. 《边城》/翠翠
  - B. 《社戏》/八一公公
  - C. 《药》/华老栓
  - D. 《春蚕》/老通宝
10. 根据《著作权法》的规定，信息网络传播权是指以有线或者无线方式向公众提供作品，使公众可以在其个人选定的时间和地点获得作品的权利。下面情形中，不涉及信息网络传播权的是
- A. 甲公司在网站上提供音乐下载，但仅在晚上7点至早晨7点间开通网站服务器。
  - B. 乙电视台直播选秀节目，观众可以通过短信投票支持自己喜欢的选手。
  - C. 丙图书馆计算机内网提供正版电子图书，但只能在图书馆内的计算机上阅读。
  - D. 丁公司将自己公司的简介放到专门的电子商务网站上，供客户浏览。
11. 现代企业组织结构的变化趋势是构建管理层次少而管理幅度大的扁平式组织结构，其主要目的是
- A. 精简人员
  - B. 区分层次
  - C. 细化分工
  - D. 加快应变
12. 孙子曰：“先知者，不可取于鬼神，不可象于事，不可验于度，必取于人，知敌之情者也。”下面说法中，意思与之相近的是

- A. 集中优势兵力，各个歼灭敌人。
- B. 不打无准备之仗，不打无把握之仗。
- C. 人不犯我，我不犯人；人若犯我，我必犯人。
- D. 敌进我退，敌驻我扰，敌疲我打，敌退我追。
13. 根据制定机关的不同，规范性文件可以分为法律、行政法规、行政规章和地方性法规等。由国家旅游局、公安部、国务院台湾事务办公室联合颁布的《大陆居民赴台湾地区旅游管理办法》属于
- A. 法律  
B. 行政法规  
C. 行政规章  
D. 地方性法规
14. 我国的大气污染以煤烟型为主，其主要污染物为硫化物和烟尘，少数大城市属煤烟与汽车尾气污染并重类型。据此，目前我国计入空气污染指数的项目暂不包含
- A. 二氧化碳  
B. 二氧化硫  
C. 总悬浮物  
D. 氮氧化物
15. 生物对环境的适应是普遍性的，但这种适应都不是绝对的、完全的适应，只是一定程度上的适应，这就是适应的相对性。下面体现生物适应相对性的是
- A. 狐假虎威  
B. 莺歌燕舞  
C. 作茧自缚  
D. 螳螂捕蝉

## 二、 填空题

16. 在下面横线处，依次填入最恰当的词语。

- ① 李志华一听说火车晚点了，\_\_\_\_\_急躁起来。
- ② 只有在温带地区，四季的\_\_\_\_\_才表现得比较明显。
- ③ 他的事迹很快在全国\_\_\_\_\_，并被誉为“抗震救灾小英雄”。

- A. 难免 界线 传颂  
B. 不免 界限 传颂  
C. 不免 界限 传诵  
D. 难免 界线 传诵

17. 在下面横线处填入上下文衔接最恰当的一段话。

俗话说：“文如其人”。这在大体上固然不错，而实际情况却复杂得多。\_\_\_\_\_

- A. 元凶巨奸能作忧国语，热中人可作冰雪文，为人、作文未必一致。即使出于一人之手的文，也往往可判若两人。同一个作者，诗文风格未必统一，论诗论文的意见可能相左。至于一代风会，一国文明，就更复杂了。
- B. 元凶巨奸能作忧国语，热中人可作冰雪文，为人、作文未必一致。至于一代风会，一国文明，就更复

杂了。即使出于一人之手的文，也往往可判若两人。同一作者，诗文风格未必统一，论诗论文的意见可能相左。

C. 即使出于一人之手的文，也往往可判若两人。同一作者，诗文风格未必统一，论诗论文的意见可能相左。至于一代风会，一国文明，就更复杂了。元凶巨奸能作忧国语，热中人可作冰雪文，为人、作文未必一致。

D. 同一作者，诗文风格未必统一，论诗论文的意见可能相左。至于一代风会，一国文明，就更复杂了。元凶巨奸能作忧国语，热中人可作冰雪文，为人、作文未必一致。即使出于一人之手的文，也往往可判若两人。

18. 在下面横线处，填入对修辞方法及其作用的正确表述。

“一分钟之内，她讲了这么多话。纯正的北京方言，那股特有的柔和劲儿，有股子甜味。听她讲话，简直像在嚼一串北京的冰糖葫芦。”以上文字\_\_\_\_\_

- A. 用了夸张和明喻的修辞手法，赞美了她讲话速度快，而语调轻柔婉转。
- B. 用了通感和明喻的修辞手法，借冰糖葫芦的甜味来凸显她讲话的柔和。
- C. 用了通感和隐喻的修辞手法，借冰糖葫芦的甜味来凸显她讲话的柔和。
- D. 用了夸张和隐喻的修辞手法，赞美了她讲话速度快，而语调轻柔婉转。

19. 在下面横线处，依次填入最恰当的关联词语。

\_\_\_\_\_昨天下了一场大雨，\_\_\_\_\_以为可以凉快些，\_\_\_\_\_，\_\_\_\_\_没有凉快下来，\_\_\_\_\_更热了。

- A. 因为 所以 可是 不但 反而
- B. 由于 因此 结果 虽然 但是
- C. 虽然 结果 可是 不但 而且
- D. 尽管 所以 结果 虽然 因此

20. 在下面横线处，依次填入最恰当的标点符号。

列宁说过\_\_\_\_\_宪法是一张写着人民权利的纸\_\_\_\_\_我国把“人权”写入\_\_\_\_\_中华人民共和国宪法\_\_\_\_\_，人民手里攥着这张沉甸甸的“纸”，就更有理由对未来生活充满信心

A	， “	。”	”	”
B	： “	”。	”	”
C	， “	”。	《	》
D	： ”	。”	《	》

21. 近代学者俞陛云《诗境浅说》曾分析一首小诗的结构特点：“此等诗，虽分四句，实系一事，蝉联而

下、脱口一气呵成。”下面四首诗中，\_\_\_\_\_具有他所说的这一特点。

- A. 杜甫《绝句》：“迟日江山丽，春风花草香。泥融飞燕子，沙暖睡鸳鸯。”  
 B. 文同《涵碧亭》：“轩窗晓吹清，枕簟晴光冷。亭上逍遥人，满身摇水影。”  
 C. 王安石《山中》：“随月出山去，寻云相伴归。春晨花上露，芳气著人衣。”  
 D. 金昌绪《春怨》：“打起黄莺儿，莫教枝上啼。啼时惊妾梦，不得到辽西。”

22. 在下面横线处，依次填入作者姓名。

《楚辞》收录战国楚人屈原和\_\_\_\_\_等人辞赋作品的文学总集。明代\_\_\_\_\_的《牡丹亭》，表现了杜丽娘和柳梦梅的爱情故事；清末\_\_\_\_\_的小说《老残游记》，描写老残游历江湖过程中的活动和见闻，揭露了各种官吏的昏庸腐朽。

- A. 宋玉 汤显祖 刘鹗  
 B. 宋玉 孔尚任 曾朴  
 C. 刘向 汤显祖 曾朴  
 D. 刘向 孔尚任 刘鹗

23. 在下面横线处，依次填入最恰当的词语。

太阳太崇高尊严了，它只能垂顾保育隶属于大自然的万物，无暇及于人为的事物。于是在朦胧中显得古色古香的点缀，在日光中只觉得\_\_\_\_\_；在月光下显得神秘艳异的装饰，在日光中只觉得\_\_\_\_\_；在灯光下显得娇欲滴的美人，在日光中每见得\_\_\_\_\_。

- A. 荒谬可笑 陈旧破敝 脂粉狼籍  
 B. 陈旧破敝 脂粉狼籍 荒谬可笑  
 C. 陈旧破敝 荒谬可笑 脂粉狼籍  
 D. 脂粉狼籍 陈旧破敝 荒谬可笑

24. 《庄子·骈拇》说，有两个牧羊人，一个叫臧，一个叫穀，他们在牧羊时都不专心，臧放羊时还带着书策读书，穀则一边放羊一边赌具，结果都丢了自己入牧的羊。后人以“臧穀亡羊”故事比喻不专心于本业，或指不专心于本业而又有所失误。

下面诗词中，\_\_\_\_\_用到了这个故事。

- A. 朱敦儒《临江仙》：“莫听古人闲语话，终归失马亡羊。”  
 B. 苏轼《次韵王郎子立风雨有感》：“后生不自牧，呻吟空挟策。”  
 C. 高登《多丽》：“幅巾谈笑，卒岁且优游。循环事，亡羊须在，失马何忧。”  
 D. 陆游《秋兴》：“怨羹吹壑岂共非，亡羊补牢理所宜。”

25. 《国语·越语上》曾写道，“贾人夏则资皮，冬则资絺，旱则资舟，水则资车，以待乏也”，表明中国很早就有了\_\_\_\_\_思想，这对现代企业也有很好的借鉴意义。

- A. 销售  
 B. 消费

- C. 筹划 D. 经营
26. 《孙子兵法·谋攻》提出了预知胜利的五個根据，其中最后一个根据“将能而君不御者胜”，在现代企业管理中集中体现为\_\_\_\_的思想。
- A. 集权 B. 分权  
C. 授权 D. 越权
27. 在立法活动中，有选择地将其他国家或地区的法律吸收到本国立法中的做法，在法学上一般称为\_\_\_\_。
- A. 法律移植 B. 法律认同  
C. 法律全球化 D. 法律现代化
28. 全国人民代表大会通过法律后，应当由\_\_\_\_签署公布。
- A. 全国人大常委会委员长 B. 国家主席  
C. 全国人大主席团主席 D. 国务院总理
29. 电影《星球大战》中，“神鹰号”太空船在外太空将来犯的“天狼号”击中，听到“天狼号”“轰”的一声被炸毁，“神鹰号”宇航员得意地笑了。其实，这段描写是不符合科学道理的。因为在\_\_\_\_中，没有传播介质，声音是不可能传播的，所以不可能听到爆炸声。
- A. 真空 B. 复空间  
C. 密闭空间 D. 开放空间
30. 在低洼易涝的珠江三角洲，人们挖掘池塘饲养鱼类，挖出的塘泥堆于周围，并在其上种植果树、甘蔗、桑树、花卉等，如此既能防洪，又能增加收入，而农作物在加工过程中产生的物料，还可投入池中作为饲料，从而发展出独特的“\_\_\_\_\_”。
- A. 绿洲农业 B. 基塘农业  
C. 环保农业 D. 高效农业

### 三、阅读理解题

#### (一) 阅读下面短文，回答问题

我们到了那有名的“天涯海角”。

所谓“天涯海角”就在公路旁边，相去二三十步，当然有海，就在岩石旁边，但未见其“角”。至于“天涯”，我想象得到千数百年前古人以此二字命名的理由，但是今天，人定胜天，这里的公路是环岛公路干线，直通那里，沿途经地的名胜，有盐场，铁矿等等：这哪里是“天涯”？

出乎我的意外，这个“海角”却有那么大块奇拔的岩石；我们看到两座相偎相倚的高大岩石，浪打风吹，石面已颇光滑；两石之隙，大可容人，细沙铺地；数尺之外，碧浪轻轻扑打岩根。这些怪石头，叫我想起

题为《儋耳山》的苏东坡的一首五言绝句：

突兀隘空虚，他山总不如。君看道旁石，尽是补天遗！

感慨寄托之深，直到最近五十年前，凡读此诗者，大概要同声浩叹。我翻阅过《道光琼州志》，在“谪宦”目下，知谪宦始自唐代，凡十人，宋代亦十人；又在“流寓”目下，知道隋一个，唐十二人，宋亦十二人。明朝呢，谪宦及流寓共二十二。这些人，不都是“补天遗”的“道旁石”么？当然，苏东坡写这首诗时，并没有料到在他以后，被贬逐步到这个岛上的宋代名臣，就有五个人是因为反对和议、力主抗金而获罪的，其中有大名震宇宙的李纲、赵鼎与胡铨。这些名臣，当宋南渡之际，却无缘“补天”，而被放逐到这“地陷东南”的海岛作“道旁石”。千载以下，真叫人读了苏东坡这道诗同声一叹！

只在人民掌握政权以后，海南岛才别是一番新天地。参观兴隆农场的时候，我又一次想起了历史上的这个海岛，又一次想起了苏东坡那首诗。正像这里的工作人员，他们的祖辈或父辈万里投荒，为人作嫁，现在他们回到祖国的这个南海大岛，却不是“道旁石”，而是真正的补天手了！

我们的车子在一边是白浪滔天的大海、一边是万顷平畴的稻田之间的公路上，扬长而过。时令是农历岁底，北中国的农民此时正在准备屠苏酒，在暖屋里计算今年的收成，筹画着明年的夺粮大战吧？不光是北中国，长江两岸的农民此时也是刚结束一个战役，准备着第二个。但是，眼前，这里，海南，我们却看见一望平畴，新秧芊芊，嫩绿迎人。这真是奇观。

还看见公路两旁，长着一丛丛的小草，绵延不断。这些小草矮而丛生，开着绒球似的小白花，枝顶聚生如盖，累累似珍珠，远看去却又像一匹白练。

我忽然想起明朝正统年间王佐所写的一首五古《鸭脚粟》了。这首诗说：

五谷皆养生，不可一日缺；谁知五谷外，又有养生物。茫茫大海南，落日孤鳧没；  
岂有亿万足，垄亩生倏忽。初如鳧足撑，渐见蛙眼突。又如散细珠，钗头横屈曲。

你看，描写鸭脚粟的形状，多么生动，难怪我印象很深。但是诗人写诗不仅为了咏物，请念它下文的沉痛的句子：

三月方告饥，催租如雷动。小熟三月收，足以供迎送。八月又告饥，百谷青在垄。  
在熟八月登，持此以不恐。琼民百万家，菜色半贫病。每到饥月来，此物司其命。  
闾阎饱半饼，上下足酒浆；岂独济其暂，亦可赡其常。

照这首诗看来，小大两熟，老百姓都不能自己享用哪怕是其中的一小部分，而经常借以维持生命的，是鸭脚粟。

然而王佐还有一首五古《天南星》：

君有天南星，处处入本草。夫何生南海，而能济饥饱。八月风飏飏，闾阎菜色忧。  
南星就根发，累累满筐收。

这就是说：“大熟八月登”以后，老百姓所得，尽被搜括以去，不但靠鸭脚粟过活，也还靠天南星。

王佐在这道诗的结尾用了下列这样“含泪微笑”式的两句：

海外此美产，中原知味不？

31. 下面对“补天遗”的‘道旁石’“的理解，符合文意的是
- A. “补天”后被遗弃在道旁的石头
- B. “补天”时因无用而被遗弃在道旁的石头
- C. 本为“补天石”，却被遗弃在道旁的石头
- D. 有志“补天”，却被遗弃在道旁的石头
32. 文中划线处的话只用了一种修辞手法而不显单调，连用了四个比喻而不觉重复。下面解释最恰当的是
- A. 描写角度多样，有局部描写，全景描写，远景描写等。
- B. 突出触觉的差异，或写其柔软，或写其圆润，或写其洁净。
- C. 突出形态的差异，或似绒球，或似珍珠，或似白练。
- D. 突出视觉感受的不同，花虽开一色，但其公或朴素，或华丽，或洁净。
33. 文中王佐的五古《鸭脚粟》，对于表达全文文意的作用，下面概括最恰当的是
- A. 借题发挥，拓展主题
- B. 画龙点睛，升华主题
- C. 厚古薄今，深化主题
- D. 古今对照，突出主题
34. 有人认为，本文借古颂今是“表”，借古谕今是“里”。下面不利于此论点的是
- A. 全文用大量文字写古代，而写当代开发、发展之功的了数较少，几为陪衬。
- B. 文中写“天涯海角”的部分，重在“颂今”与“谕今”互为表里。
- C. 文章古今相照，诗史为鉴，“颂今”与“谕今”互为表里。
- D. “海外此美产，中原知味不？”这句诗含有讽喻的意味。
35. 下面对文章内容的理解和概括，恰当的是
- A. 从海南地方志设“谪宦”“流寓”条目可知，自汉代以来海南都是放逐罪人之地。
- B. 苏东坡的《儋耳山》寄托了他对“补天石道旁遗”这一封建社会常见现象的感概。
- C. 从古至今，相对于中原，海南的地位都是道旁石，不受重视。
- D. 天南星这种植物，本作药用，但在八月的海南，也常被当地百姓采用以食疗。

(二) 阅读下面短文，回答问题。

“文化自觉与文化自信”，胡锦涛同志“七一讲话”中提出的这样一个问题，有着重要的意义。

自觉自信，首先是对于文化建设的重视，是一种观念，一种不仅看到物质财富的建设积累，而且看到



价值观念、知识系统、生活方式与精神财富的眼光。建设有中国特色的社会主义的过程不但是一个发展生产力的过程，也是一个继承、弘扬、汲取、创造史无前例的中华文明与文明中华的过程。

文化的自觉与自信，首要的是大家保持一根文化的弦。例如，在突飞猛进的城乡建设中，在动辄拆迁腾地以促开发的大潮下，许多城乡的文化标志与文化记忆被人为地抹去了。一些百年老店，奉命迁址后一蹶不振，直至关门歇业。有些特色民居已经所余无多，代替它们的是千篇一律的、基本上无文化含量的公寓楼。在网络与电子书提供快捷方便的同时，在销量效果高于一切的趋赶中，文化的操守与成品的质量正在被马虎对待。在口口声声“传承文化”的同时，一些地方表现出来的是粗俗的急功近利，是对于文化的无知与粗暴，是浅薄的表面文章。他们只知道用文化吸引旅游，用文化鼓动招商投资，用文化包装“成绩”。如此种种，都不是文化自觉与文化自信，而更像是自觉与盲目自吹自擂。

自觉与自信包含着对于长期积淀下来的优秀民族传统的熟悉与热爱，也包含着对于传统的创造性弘扬发展，将传统引导到现代。我们的文化从来是源远流长与互补共存的；文化上不搞零和，文化上不是不要传统只要新文化，也不是糊里糊涂地忽然膜拜传统回到封建的旧文化。

自觉与自信，包含着对于先进文化的自觉追求、自觉建设、自觉宣扬、自觉扩展。什么是先进文化，首先是价值观念的先进，是与时俱进而不是腐朽没落的颓废，是科学昌明阔步前进而不是愚昧迷信自欺欺人，是面向世界、面向文莱。面向现代化的开放心胸而不是抱残守缺的狭隘，是重在建设与积累的理性而不是动辄起哄破坏的砸烂。

自觉与自信还包括这文化上的创新精神。当然，文化创新与理论、制度、科技创新等相比，范围更广泛也需要更长的周期。百年来，中国的文化惊天动地，中国人民抚今思昔，甚至会有恍若隔世之感。但中华文化的一些基本素质，仍然与两千多年前的先秦诸子的思路密切相连，与伏羲八卦与仓颉造字密切相衔接。我们\_\_\_\_\_难于、\_\_\_\_\_不应该简单地甩开孔子，

我们仍然深切地感受到孔子的仁义教化有利于维护秩序与和谐，\_\_\_\_\_又不是没有出息的照搬儒家的一套。具体地看，文化有时候比人强，文化可以超越几代几世人。文化产品可以汗牛充栋，文化活动可以此起彼伏，它们对于文化的基调的影响却可能比较微小。关键在于一种文化的内容与走向能不能够给这种文化的受众提供更高的生活质量，给尚未接受这种文化的人们以有益的启发与享受：益智、益心、益德、益生。

总体看来，文化的对象是人，文化的主体也是人，以人为本，人民以自身的利害好恶得失顺逆为标尺，人们以自身的智慧、自觉与自信为标尺，选择文化的走向，缔造文化的大发展大繁荣，同样也会抛弃糟粕和毒素，实现文化的自我更新。

（《王蒙谈文化自觉与文化自信》。《人民日报海外版》2011年8月3日，有删改）

36. 根据文意，下面对“文化自觉与文化自信”的理解最恰当的是
- A. 保存传统文化
- B. 发挥文化上的创新精神
- C. 以人为本，把握文化的走向，实现文化的创新
- D. 文化要提高人民的生活质量
37. 下面文中的表述，反应了“文化自信和文化自觉”的是
- A. 用文化吸引旅游、用文化鼓动招商投资。
- B. 文化的操守与成品的质量正在被马虎对待。
- C. 许多城乡的文化标志与文化记忆被人为地抹去了。
- D. 大家保持一根文化的弦。
38. 根据文意，下面推断正确的是
- A. 当下中国民间传统节日过的热闹红火，这意味着传统文化的回归。
- B. 历史文化遗址，即使不能带来商业利益，也应当注意保护。
- C. 许多酒店仿古装修说明我们发现了传统文化的价值。
- D. 为了提高人民的生活质量，高楼大厦应当取代古旧的民居。
39. 在文中横线处依次填入词语，最恰当的一组是
- A. 仍然 也 当然                      B. 当然 也 仍然
- C. 当然 却 仍然                      D. 仍然 却 当然
40. 文章主要想告诉我们的是
- A. 传统文化不能因为经济发展而摒弃      B. 现代社会的发展离不开文化的包装
- C. 不能照搬传统的文化                      D. 要有尊重文化的认真态度和正确理念

(三) 阅读下面短文，回答问题

萨维尼认为，法律同语言一样是“民族精神”最重要的表达形式之一。这种深奥的思想至少包含着这样的观点，即法律远不仅是规章准则或司法判例的积累，它反映并展示了整个文化概貌。民族或人民的精神囊括了全部民族史，同时也是社会群体通过追溯它本身生存的进程而获得的集体经验。任何时代记录下的民族或民众的法律只不过是一种始终在变化着的文化演化过程的静态表象。萨维尼还认为，如果不在它所赖以存在的社会历史领域中加以观察，那么，法律作为一种社会现象是难以理解的。

法律的发展经历了早期的不成文习惯的阶段，随后把习惯作为规则记录下来，现在我们所知道的最早

的一批成文法典，如《汉谟拉比法典》就是对习惯规范进行或多或少的有系统的汇编。然而，正如通常所指出的那样，这种成文习惯法早已失去了习惯的特性，并可解释为“规则”。法降格为成文形式反映了政治势力的兴起，因而法律从基于起源于“偶然情形的个人间关系”的习惯性规范转变为“政治力量的一部分”。按照萨维尼的分析，从历史发展的这个阶段开始，法的社会学特征显得更加疑难纷纭了。随着社会的发展，社会成员间的社会功能的划分变得愈加明确，阶级和亚群体的发展也更为显著。虽然在早期社会里，民族精神是一种社会现象，通过法律可以使民族精神得到合理性认可，并能寻求到一种自发的表达形式，但由于两种原因，导致民族精神逐渐衰弱。第一，功能和阶级的分化使人们的共同意识难以给发的自发创立提供强有力的激情；第二，直到法律置共同意识于脑后而仅讨论规则的细节和技术性问题，法律形式本身总在不断地复杂化。

按照萨维尼的观点，这种情形导致了两大重要制度的\_\_\_\_\_：现代立法和现代法学。当法的\_\_\_\_\_产生过程不再有效地行进，立法机构的设立就成为\_\_\_\_\_的。立法的重要性首先在于剔除法的演进中的疑点和不确定性；其次在于制定固定的习惯法——但不是以法典的形式表现，因为法典形式是用呆板的、确定的和综合性的原则来否定法的发展特性。然后，就像船舶拖动了铁锚，立法活动也不可避免地会偏离它们本身相应的功能，立法及其功能逐渐分离并彼此疏远。但无论如何，立法者应该是民族精神的“真正代表”，然而，与此同时，当法律进一步滑出它的社会生活中的基础且不再是大众知识的一部分时，有关法律的知识将被“受过专门法律知识训练的特殊阶层”所垄断，他们的工作就是理解和建立法律规则。由此，法律以“双重”的面目存在：法律的整个轮廓依然如故地存在于人们的共同意识之中，而具体细节则成为法学家们的禁地。

（节选自【英】罗杰·科特威尔《法律社会学导论》，潘大松等译，华夏出版社，1989）

41. 在文中横线处依次填入词语，最恰当的一组是

- A. 发展 自觉 可选                      B. 发展 自发 必要  
C. 演变 自发 可选                      D. 演变 自觉 必要

42. 下面说法中，与“法律是民族精神的体现”冲突的是

- A. 法律反映并展示了整个文化概貌  
B. 法律是一种始终在变化着的文化演化过程的静态表象  
C. 法律只不过是规章准则或司法判例的累积  
D. 法律是社会群体在生存过程中获得的集体经验。

43. 下面选项中，不是导致民族精神衰落的原因是

- A. 阶级的分化                              B. 功能的分化

- C. 法律形式的复杂化 D. 法的自发创立的激情
44. 下面关于立法重要性的表示, 错误的是
- A. 剔除法律演进中的疑点 B. 剔除法律演进中的不确定性
- C. 制定固定的习惯法 D. 将习惯法法典化
45. 现代立法制度发展的一个重要原因是
- A. 民族精神的衰落 B. 法降格为成文法
- C. 民族精神得到合理性认可 D. 习惯作为规则记录下来

(四) 阅读下面短文, 回答问题

玛雅人使中美洲的土著居民, 曾经拥有高度发达的文明。大约从公元 300 年起, 玛雅文明进入了被称为古典期的鼎盛时期。公元 800 年, 古典期玛雅文明达到了它的顶峰, 随后却发生了不可思议的崩溃。在此后的 100 多年里, 玛雅人先后放弃了他们的繁华城市, 神庙和广场成为了野兽出没的废墟。有关玛雅文明衰落的假说可谓众说纷纭。有人认为, 地震、瘟疫等天灾造成了玛雅人口的急剧减少; 也有人认为, 战争或者农民起义让文明陷入混乱; 还有人提出了“生态危机”论, 认为人口的严重膨胀、土地的过度开垦所带来的严重生态问题导致了文明的消亡。在这些假说中, 气候巨变——具体说, 就是大旱——导致玛雅文明的衰落是引人注目的假说之一。理查德森·吉尔是最早提出这个假说的人。

2001 年, 一份直接证据终于出现了。霍德尔等人挖出了尤卡坦半岛中央一个湖泊底部的沉积物作为分析对象, 他们发现, 这个地区每隔若干年就会发生干旱。考察玛雅人的历史, 就会发现在一些“世纪干旱”来临时, 玛雅文明就会发生一定程度的衰退, 例如停止建造纪念碑, 城市被遗弃等等。这表明气候的变化很有可能影响到玛雅文明的发展。在测量了另一块沉积物样品之后, 霍德尔还发现公元 750 年至 800 年, 这个地区发生了 7000 年中最严重的干旱。从公元 9 世纪开始, 一场持续 100 多年的干旱主宰了加勒比海地区。玛雅人的社会结构在干旱面前显得十分脆弱。他们的农业——主要是种植玉米——依赖水资源, 而他们的水源有限。更详细的研究表明, 在这干旱的 100 多年中, 公元 810 年、860 年和 910 年左右发生了三次严重的旱灾, 持续时间分别为 9 年、3 年和 6 年。这三次严重旱灾的发生时间, 与玛雅人的主要城市被遗弃的时间相一致。玛雅人聚集的城市规模越大, 对水资源的依赖性也就越大, 于是大城市首先被玛雅人放弃了, 随后是中小城市。持续 100 多年的干旱, 加上公元 810 年、860 年的大旱, 把整个玛雅文明推向了危机的边缘, 而公元 910 年的大旱则可能给玛雅文明以致命一击。在某种意义上气候变化可以看成是玛雅文明衰退的主要因素。玛雅人已经酿成的环境问题(环境退化、土壤侵蚀等), 使得过度繁衍的人口极易受到气候和干旱的威胁, 气候起着催化剂的作用。但正如一些考古学家所指出的, 气候变化并不是造成玛雅文明衰落的唯一因素。在他们看来, 玛雅文明的衰落原因或许更为复杂。



以下各项都构成对上述观点的质疑，除了

- A. 阅人无数自会遇到名师指路。
- B. 书中自有乾坤，读万卷书如同行万里路。
- C. 若无名师指路，仅凭读万卷书和行万里路，自己仍无法领悟。
- D. 行万里路，游历大千世界，必定阅人无数。

2. 爱因斯坦发表狭义相对论时，有人问他，预计公众会有什么反应？他答道：很简单，如果我的理论是正确的，那么，德国人会说我是德国人，法国人会说我是欧洲人，美国人会说我是世界公民；如果我的理论不正确，那么美国人会说我是欧洲人，法国人会说我是德国人，德国人会说我是犹太人。

如果爱因斯坦的话是真的，以下哪项陈述一定为真？

- A. 有人会说爱因斯坦是德国人。
- B. 有人会说爱因斯坦是世界公民。
- C. 有人会说爱因斯坦是犹太人。
- D. 法国人会说爱因斯坦是欧洲人。

3. 世界卫生组织报告说，全球每年有数百万人死于各种医疗事故。在任何一个国家的医院，医疗事故致死的概率不低于 0.3%。因此，即使是癌症患者也不应当去医院治疗，因为去医院治疗会增加死亡的风险。

为了评估上述论证，对以下哪个问题的答案最为重要？

- A. 在因医疗事故死亡的癌症患者中，即使不遭遇医疗事故最终也会死于癌症的人占多大比例？
- B. 去医院治疗的癌症患者和不去医院治疗的癌症患者的死亡率分别是多少？
- C. 医疗事故致死的概率是否因医院管理水平的提高而正在下降？
- D. 患者能否通过自身的努力来减少医疗事故的发生？

4. 因对微博的无知，某局长和某主任在微博上泄露个人隐私，暴露其不道德行为，受到有关部门的查处，有网友对他们的行为冷嘲热讽，感慨到：知识改变命运，没有知识也改变命运。

以下哪项陈述最接近该网友所表达的意思？

- A. 无论是否有知识，都会改变命运。
- B. “知识就是力量”这一说法过于夸张，实际上，权利和金钱才是力量。
- C. 有知识导致命运由不好向好的方向改变，没有知识导致命运由好向坏的方向改变。
- D. “命运”的本意就是先天注定，它不会引诱物质是而改变。

5. 在大学里，许多温和宽厚的教师是好教师，但有些严肃且不讲情面的教师也是好教师，而所有好教师都有一个共同特点：他们都是学识渊博的人。

如果以上陈述为真，以下哪项陈述一定为真？

- A. 许多学识渊博的教师是温和宽厚的。
- B. 有些学识渊博的教师是严肃且不讲情面的。
- C. 所有学识渊博的老师都是好教师。
- D. 有些学识渊博的教师不是好教师

6. 《与贸易有关的知识产权协定》规定，不得仅仅因为成员国本国法律禁止某些发明的商业性实施就不授予那些发明专利权。

已知 A 国是《与贸易有关的知识产权协定》的成员国，以下哪项陈述与上述规定不一致？

- A. 从 A 国法律禁止一项发明的商业性实施推不出不能授予该项发明专利权。
- B. 从 A 国法律允许授予一项发明专利权推不出允许该项发明的商业性实施。
- C. 在 A 国，一种窃听装置的商业性实施是被法律禁止的，因此不允许授予其专利权。
- D. 在 A 国，一种改进枪支瞄准的发明被授予了专利权，但该项发明的商业性实施被禁止。

7. 每一个政客都不得不取悦他得选民。尽管马英九是一位诚实的人，但他也是一位政客。如果不偶尔说出一些含糊其辞的话，任何人都不能取悦他的选民。

如果以上陈述为真，以下哪项陈述一定为真？

- A. 马英九不会说出含糊其辞的话。
- B. 马英九会说出一些含糊其辞的话
- C. 说含糊其辞话的政客不是诚实的人。
- D. 有的诚实的人不是政客。

8. 具有能够让一个乐队特别是一流乐队反复进行排练的权威，这是一个优秀指挥家的标志。这种威望不是轻而易举的。一个指挥家必须通过赢得乐队对他所追求的艺术见解的尊重才能获得这种威望。
- 在上文的论述过程中，作者预先假设了以下哪项陈述？
- A. 优秀的指挥家在与不同的乐队合作时，对同一首作品会有不同的艺术见解。
  - B. 优秀的指挥家都是完美主义者，即使对一流乐队的表演，他们也从不满意。
  - C. 如果优秀的指挥家以为附加的排练是必须的，一流乐队总是时刻准备加班训练。
  - D. 即使一种艺术见解还没有被充分表现出来，一流乐队也能够领悟这种艺术见解的优点。
9. 2010年，卫生部推出新的乳业国家标准，将原奶蛋白质含量由原来的2.95%降至2.8%。新标准不升反降，引发了一片质疑。某业内人士解释说：如果我们的牛奶检测标准把蛋白质含量定的太高，奶农为了达标就会往奶里添加提高蛋白质检测含量的东西，如三聚氰胺。2008年的三聚氰胺事件就说明原来的标准太高了。
- 以下哪项推理含有与该业内人士的推理相同的逻辑错误？
- A. 真正的强者都不惧怕困难或挑战，赵涛害怕困难或挑战，说明赵涛不是真正的强者。
  - B. 如果台风在海口登陆，飞往海口的航班就会被取消。现在飞海口的航班没有被取消，说明台风没有在海口登陆。
  - C. 要是铁路部门的管理存在漏洞，铁路运输就会出事故。7.23温州动车事故就说明铁路部门的管理存在漏洞。
  - D. 仅当人们信任一个慈善机构时才会向该机构捐款，所以，得不到捐款的慈善机构一定是丧失了公众的信任。
10. 现代社会中有很多人发胖，长有啤酒肚，体重严重超标，因为他们常常喝啤酒。
- 对以下各项问题的回答都可能质疑上述论证，除了
- A. 如果人们每天只喝啤酒，吃很少的其他事物，特别是肉食品，他们还会发胖吗？
  - B. 为什么美国有很多女人和孩子常喝可乐、吃炸鸡和匹萨饼，其体重也严重超标？
  - C. 发胖的人除常喝啤酒外，是否经常进行体育锻炼？
  - D. 很多发胖的人也同时抽烟，能够说“抽烟导致发胖”吗？
11. 经济学家：中国外汇储备在过去10年的快速增长是中国成功标志之一。没有外汇储备的增长，就没有中国目前的国际影响力。但是，不进行外汇储备投资，就不会有外汇储备的增长。外汇储备投资面临风险是正确的，只要投资寻求收益，就要承担风险。
- 以下哪项陈述能从这位经济学家的论述中合逻辑地推出？
- A. 如果能够承担风险，就会有外汇储备的增长。
  - B. 如果不进行外汇储备投资，就不用承担风险。
  - C. 只要进行外汇储备投资，中国就能具有国际影响力。
  - D. 中国具有目前的国际影响力，是因为中国承担了投资风险。
12. 山西醋产业协会某前副会长称，在市面上销售的山西老陈醋中，只有5%是不加添加剂的真正意义上的山西老陈醋。中国调味品协会某副会长就此事件接受记者采访时说：“只要是按国家标准加添加剂，都没有安全问题。有些企业强调自己未加添加剂，这对按正常标准加添加剂的企业来说是不公平的。”
- 以下哪项陈述能够从该调味品协会副会长的话中合逻辑地推出？
- A. 为了保证公平性，企业或者不应该生产高于国家标准的产品，或者要对产品质量高于国家标准的事实秘而不宣。
  - B. 要想促进行业的技术创新，就应当提高行业的国家标准。
  - C. 某个行业的国家标准定的太高，不利于该行业的良性发展。
  - D. 如果不按国家标准加添加剂，就会有安全问题。
13. 午夜时分，小约翰安静的坐着。他非常希望此时是早晨，这样他就可以出去踢足球了。他平心静气，祈祷太阳早点升起来。在他祈祷的时候，天慢慢变亮了。他继续祈祷。太阳逐渐冒出地平线，升上天

空。小约翰想了想所发生的事情，得出这样的结论：如果他祈祷的话，他就能把寒冷而孤寂的夜晚变成温暖而明朗的白天。他为自己感到自豪。

下面哪项陈述最恰当地指明了小约翰推理中的缺陷？

- A. 小约翰只是个孩子，他懂得很少很少。
  - B. 太阳环绕地球运转，不管他祈祷还是不祈祷。
  - C. 一件事情在他祈祷之后发生，并不意味着因为他祈祷而发生。
  - D. 他有什么证据表明，如果他不祈祷，该事情就不会发生？
14. 借债者的信用等级越低，其借债的成本越高，债主的收益率也越高。2011年8月5日，标普将美国主权信用评级从AAA降为AA+。按照常理，投资者处于避险需求应当减持美国国债，从而推动其价格走低，收益率上升。然而，8月8日美国国债价格上涨，收益率降低，最新10年期美国国债收益率降至2.34%，创今年以来新低。

如果以下哪项陈述为真，能够最好的解释上述违反常理的现象？

- A. 8月5日晚间，美国财政部回应称，标普进行评级计算时有2万亿美元的误差。
  - B. 与欧盟、日本以及其他国家的债券相比，美国国债依然是相对安全和流动性提高的投资品。
  - C. 美国主权信用评级下调后，俄罗斯开始减持美国国债，而中国仍增持美国国债。
  - D. 欧盟为打破标普等三家美国评级机构的垄断地位，计划建立一家欧洲的信用评级机构。
15. 在《反省的生命》一书中，诺齐克写到：“我不会像苏格拉底一样，说未经反省的生命是不值得过的——那是过分严苛了。但是，如果我们的人生是由深思熟虑的反省所引导，那么，它就是我们为自己活的生命，而不是别人的。从这个意义上说，未经反省的生命是不完整的生命。”

以下各项都能从诺齐克的陈述中推出，除了

- A. 诺齐克以为，值得过的生命都是经过反省的生命。
  - B. 诺齐克认为，只有为自己活的生命才是完整的生命。
  - C. 诺齐克认为，完整的生命都是经过反省的生命。
  - D. 诺齐克认为，未经反省的生命不是完整的生命。
16. 中国人仇富，居然有那么多人给骗子说话，只因为他们骗的是富人，我敢断定，那些骂富人的人，每天都在梦想成为富人。如果他们有机会成为富人，未必就比他们所骂的人干净。况且，并非所有的富人都为富不仁，至少我周围有的富人不是，我看到他们辛勤工作且有慈悲心怀。——有网友对达芬奇家具造假事件的网上评论如是说。

根据该网友的说法，不能合逻辑地确定以下哪项陈述的真假？

- A. 有的仇富者是中国人。
  - B. 有的富人并非为富不仁。
  - C. 那些每天都在梦想成为富人的人却在骂富人。
  - D. 有的辛勤工作且有慈悲心怀的人是富人。
17. 目前我国有3种转基因水稻正等待商业化种植审批，每种至少涉及5—12项国外专利；有5种转基因水稻正处于研发过程中，每种涉及10项国外专利。有专家认为，水稻是我国的主要粮食作物，如果我国允许转基因水稻商业化种植，国家对主要粮食作物的控制权就可能受到威胁。

如果以下哪项陈述为真，将最有力地支持该专家的观点？

- A. 转基因水稻的优势在于抵抗特定的害虫，但我国的水稻很少有这些害虫。
  - B. 目前还没有任何一种转基因水稻能超过我国超级稻，杂交稻等品种的产量和品质。
  - C. 美国引入转基因种子后，玉米、棉花、大豆等种子的价格大幅上涨。
  - D. 如果我国商业化种植转基因水稻，国外专利持有人就会禁止我国农民保留种子，迫使他们每个播种季都高价购买种子。
18. 孔子非常懂得饮食和养生的道理，《论语·乡党》就列出了很多“食”和“不食”的主张，比如“不



时不食”，意思是说不要吃反季节蔬菜。

以下哪项陈述是上述解释所必须依赖的假设？

- A. 孔子在饮食方面的要求很高。
- B. 孔子生活的时代既有当季蔬菜，也有反季节蔬菜。
- C. 我们可以选择吃当季蔬菜，还是吃反季节蔬菜。
- D. 饮食不仅滋养人的身体，还塑造人的心灵。

19. 在众声喧哗中，尽可能打捞那些沉没的声音，是社会管理者应尽之责。以政府之力，维护弱势人群的表达权，使他们的利益能够通过制度化规范化渠道正常表达，这是构建和谐社会的關鍵所在。只有这样，才能让“说话”，“发声”不仅是表达诉求的基本手段，更成为培育健康社会心态的重要环节，成为社会长治久安的坚实基础。

如果以下哪项陈述为真，将最有力地支持上述论证？

- A. 有些弱势者缺医少药，甚至得不到温饱。
- B. 弱势者是社会中“沉默的大多数”，一旦真正发怒，其力量足以颠覆整个国家机器。
- C. 有些弱势者的诉求长期得不到表达和满足，容易患各种心理疾病。
- D. 甚至像美国这样的国家，也有很多食不果腹，居无定所的弱势者。

20. 天津许云鹤一案：许云鹤在驾车行驶途中，遇王老太翻越马路中心护栏，后王老太倒地受伤，许把她扶起，王老太坚称是许将她撞伤。经司法鉴定，许的车没有碰到她。法院一审认为，许见到王老太时离她仅四、五米远，她摔倒定然是由于受到许的车惊吓，判决许承担 40% 的责任，赔偿王老太 108606 元。

以下哪项陈述最好地指出了该案一审中的纰漏之处？

- A. 法官推理悖于常理：王老太违章翻越马路护栏，应该预期机动车道上有车，而受惊吓通常是看到未预期的事物。
- B. 该判决违背传统道德：像南京彭宇案一样，会使大众不敢向受伤者伸出援助之手。
- C. 该判决没有弄清事实，证据严重不足，有可能王老太先摔倒，许才开车过来。
- D. 该判决颠倒了原因和结果。

21. 英国医生约翰·斯诺的“污水理论”开启了流行病学研究的历史。1854 年，伦敦爆发了大规模的霍乱，约翰·斯诺发现，大多数死亡病例都曾经饮用同一个水泵汲取的水，而使用其他水泵或水井的人最初都没有感染霍乱。后经调查，下水道的废水污染了那个水泵，从而引发了霍乱。

以下哪一选项是约翰·斯诺的推理没有运用的方法或原则？

- A. 在被研究现象出现的各个场合都存在的因素很可能是该现象的原因。
- B. 在被研究对象不出现的各个场合都不出现的因素很可能不是该现象的原因。
- C. 当被研究对象变化时，同步发生量变的那个因素很可能是该现象的原因。
- D. 在被研究对象出现的场合与该现象不出现的场合之间的倡议很可能是该现象的原因。

22. 尼禄是公元一世纪的罗马皇帝。每一位罗马皇帝都喝葡萄酒，且只用锡壶和锡高脚酒杯喝酒。无论是谁，只要使用锡器皿去饮酒，哪怕只用过一次，也会导致中毒。而中毒总是导致精神错乱。

如果以上陈述都是真的，以下哪项陈述一定为真？

- A. 那些神经错乱的人至少用过一次锡器皿去饮葡萄酒。
- B. 不管他别的方面怎么样，尼禄皇帝肯定是精神错乱的。
- C. 使用锡器皿是罗马皇帝的特权。
- D. 在罗马王朝的臣民中，中毒是一种常见现象。

23. 巴勒斯坦准备在 2011 年 9 月申请加入联合国，已经争取到 40 个国家的支持。如果美国在安理会动用否决权，阻止巴勒斯坦进入联合国，会在整个阿拉伯世界引燃反美情绪，如果美国不动用否决权，则会得罪以色列并使奥巴马失去一部分支持以色列的选民。

如果以上陈述为真，以下哪项陈述一定为真？

- A. 美国会在安理会动用否决权，阻止巴勒斯坦进入联合国。
- B. 美国不会得罪以色列，却会在整个阿拉伯世界引燃反美情绪。
- C. 美国会在阿拉伯世界引燃反美情绪，或者奥巴马会失去一部分支持以色列的选民。
- D. 即使美国动用否决权，联合国大会仍打算投票表决，让巴勒斯坦成为具有国家地位的观察员。

24. 通过风险投资方式融资创建的公司比通过其他渠道融资创建的公司失败率要低。可见，与企业家个人素质，公司战略规划或公司管理结构等因素相比，融资渠道对于一个新公司的成功发展是更为重要的因素。

如果以下哪项陈述为真，将最有力地削弱上述论述？

- A. 有大约一半的新公司在创立后 5 年内就倒闭了。
- B. 初创公司的管理结构通常不如发展中公司的管理结构那样合理。
- C. 与其他投资人相比，风险投资人对初创公司在财务需求方面的变化更为敏感。
- D. 在决定是否对初创公司提供资金时，风险投资人必须考虑企业家的个人素质，公司的战略规划等因素。

25. 未来的中国，将是一个更加开放包容、文明和谐的国家。一个国家，一个民族，只有开放包容，才能发展进步。唯有开放，先进和有用的东西才能进的来；唯有包容，吸收借鉴优秀文化，才能使自己充实和强大起来。

如果以上说法为真，以下哪项陈述一定为假？

- A. 一个国家或民族，即使不开放包容，也能发展进步。
- B. 一个国家或民族，如果不开放包容，它就不能发展进步。
- C. 一个国家或民族，如果要发展进步，它就必须开放包容。
- D. 一个国家或民族，即使开放包容，也可能不会发展进步。

26. 大约在 12000 年前，当气候变暖时，人类开始陆续来到北美洲各地。在同一时期，大型哺乳动物，如乳齿象、猛犸和剑齿虎等，却从它们曾经广泛分布的北美洲土地上灭绝了。所以，与人类曾与自然界其他生物和平相处的神话相反，早在 12000 年前，人类的活动便导致了这些动物的灭绝。

上述论证最容易受到以下哪项陈述的质疑？

- A. 该论证未经反思地把人类排除在自然界之外。
- B. 人类来到北美洲可能还会导致乳齿象、猛犸和剑齿虎之外的其他动物灭绝。
- C. 乳齿象、猛犸和剑齿虎等大型哺乳动物的灭绝，对于早期北美的原始人来说，具有非同寻常的意义。
- D. 所提出的证据同样适用于两种可选择的假说：气候的变化导致大型哺乳动物灭绝，同样的原因使得人类来到北美洲各地。

27. 平均而言，今天受过教育的人的读书时间明显少于 50 年前受过教育的人的读书时间，但是，现在每天的售书册数却比 50 年前增加了许多。

以下各项陈述都有助于解释上述现象，除了

- A. 今天受过教育的人比 50 年前受过教育的人的数量大大增加。
- B. 与现在相比，50 年前的人们更喜欢从图书馆借阅图书。
- C. 与现在相比，50 年前的人更喜欢通过大量藏书来显示其良好的教育和品位。
- D. 现在的书往往比 50 年前的书更薄，也更容易读。

28. 思想观念的价值，在竞争中才会彰显，在实践中才能检验。“我不同意你的看法，但我誓死捍卫你说话的权利”。这是一种胸怀，更是一种自信。那种扣帽子、抓辫子的辩论方式，“不同即敌对”的思维模式，本质上都是狭隘虚弱的表现，无助于和谐社会的构建。全社会都应该以包容的心态对待“异质思维”，尤其是执掌权柄者。

以下各项陈述都支持上述观点和论证，除了

- A. 让人说话天不会塌下来，科学是在不断颠覆或改进“正统”观念中前进的。
- B. 个别的异质思维者是偏执狂，其言行近乎疯子，理应受到严格管制。
- C. 每个人，甚至是当今的执掌权柄者，都有可能某一天成为异质思维者，成为少数派。
- D. 如果社会成员思想和情绪得不到适当的表达和宣泄，容易导致各种极端行为。
29. 一家商场按下述方式促销商品：一年中任何时候，或者有季节性促销，或者有节日促销，或两者兼而有之。每一种促销都会持续一个月。在任何一个月，如果商场想要把某一类商品清仓，就宣布季节性促销；如果某个月份有节日并且仓库中仍有剩余商品，就宣布介入促销。不过，11月份没有节日并且这个月份仓库中也没有剩余商品。
- 以下哪项陈述能从上文中合逻辑地推出？
- A. 如果某个月没有季节性促销，这个月一定有节日促销。
- B. 如果节日促销没有进行，那一定是在11月份。
- C. 如果季节性促销在某个月进行，这个月仓库中一定有剩余商品。
- D. 如果在某个月中有节日，但仓库中没有剩余商品，则宣布节日促销。
30. 在对6岁儿童所做的小学入学前综合能力测试中，全天上甲学前班达9个月的儿童平均得分58分，只在上午上甲学前班达9个月的平均得分52，只在下午上甲学前班达9个月的平均得分51分；全天上乙学前班达9个月的平均得分54分；而那些来自低收入家庭且没有上过学前班的6岁儿童，在同样的小学入学前综合能力测试中平均得分32。在统计学上，32分与上述其他分数之间的差距有重要的意义。
- 从上面给定的数据，可以最合理地得出下面哪个假设性结论？
- A. 得50分以上的儿童可以上小学
- B. 要做出一个合情理的假设，还需要做更多的测试。
- C. 是否上过学前班与小学入学前的综合能力之间有相关性。
- D. 应该给6岁以下儿童上学前班提供更多的经费支持。
31. 稀土是储量较少的一类金属的统称，广泛应用于尖端科技和军工领域。世界绝大部分稀土产自中国。1998年以来，中国开始减少稀土开采量，控制稀土出口配额，加强稀土行业的集中度。对此，一些国家指责中国垄断资源，对世界其他国家“有极大的破坏性”，要求中国放宽对稀土产业的控制。
- 如果以下哪项陈述为真，最适合用来反驳这些国家对中国的指责？
- A. 稀土是不可再生的重要战略资源。
- B. 目前按人均计算，中国已经属于稀土资源相对稀缺的国家。
- C. 从1980年代起，中国一些地方对稀土滥采滥挖，造成资源的严重浪费和对环境的极大破坏。
- D. 2009年，中国稀土储量占全国储量的36%，美国占13%，俄罗斯占19%，澳大利亚占5.4%；中国产量占世界产量的97%，其他3个国家均为零。
32. 政治家：大约4年前，我们党一开始执政就致力于治理通货膨胀，并成功地将消费者物价指数（CPI）的涨幅从当时的4%降到现在的1.5%。反对党在前一个4年的执政期间，CPI涨幅都超过了4%。因此，在我们党的领导下，商品的价格越来越低。
- 这个政治家的论证最容易受到以下哪项批评？
- A. 没有详细地说明反对党的主张，而是简单地将它忽略了。
- B. 用来支持这一结论的证据实际上否定这一结论提供了更多的支持。
- C. 没有提到反对党执政期间是国内经济过热的时期，而现在欧美出现了经济危机。
- D. 没有提到这样一种可能性：反对党执行了治理通货膨胀的政策，但该政策的效果要经过一段时间才能呈现。
33. 一般情况下，上市公司的业绩与其股票价格是正相关的：一个公司公布年报时，如果其利润高于市场利润，则该公司的股票价格会上涨。然而，2011年3月31日，我国从事核电等电力机组生产的东方

电气公司公布年报，67%的净利润增速超过了市场预期，但收盘时其股票价格却下挫 1.59%，跑输大盘 0.73 个百分点。

如果以下哪项陈述为真，能够最好的解释上述反常现象？

- A. 2011 年 3 月 31 日，日本发生地震和海啸，福岛第一和电子发生严重核泄漏事故，我国有人抢购碘盐。
- B. 2011 年 3 月 16 日，中国国务院决定对核设施进行全面检查并暂停审批核电项目。
- C. 2011 年 3 月底至 4 月 26 日，世界各地举办纪念切尔诺贝利核电站爆炸 25 周年的活动。
- D. 经过长期辩论，2011 年 5 月德国执政联盟决定，将于 2022 年前关闭德国所有核电站。

34. 在某公司内部，新近设立了许多非常专门化的部门。这表明，该公司对下述问题非常感兴趣：如何以更精准的方式抓住其消费群体？

上述推理缺少下面哪一个选项？

- A. 前提：这些新部门在以更精准的方式去抓住其消费群体
- B. 结论：管理部门要求采取新的措施去抓住其消费群体。
- C. 前提：在设立这些新部门之前，该公司未能抓住其消费群体。
- D. 结论：该公司将很快做更多的努力去抓住其消费群体。

35. 我国农村的宅基地属集体所有，农民只能使用，不能买卖、出租和继承。宅基地制度保证了农民的生存权益。农民在宅基地建造的房屋是农民的资产。如果允许农民出卖自己的房屋，则实际上允许出让宅基地的使用权。如果宅基地的使用权被别人买走，则会损害农民的生存权益。但如果不允许农民出卖自己的房屋，则侵害了农民的资产权益。

如果以上陈述为真，以下哪项陈述一定为真？

- A. 农民在宅基地上建造的房屋没有房产证。
- B. 如果农民工在城市里购买了住房，则不应当再在农村老家占有宅基地。
- C. 如果不损害农民的生存权益，则会侵害农民的资产权益。
- D. 对绝大多数农民工而言，农村老家的宅基地和责任田是他们最后的生存保障。

36. 自从 1989 年阿拉斯加埃克森油轮灾难和 1991 年中东战争以来，航空油料的价格已经巨幅上涨。在同一时期内，几种石油衍生品的价格也大幅上扬。这两个事实表明：航空油料是石油衍生品。

以下哪项陈述最好地评价了上述论证？

- A. 好的思维，因为航空油料是石油衍生品。
- B. 坏的思维，没有精确地陈述所有的事实。
- C. 坏的思维，同一时期内食品价格也上涨了，但这不能证明航空油料是食品。
- D. 坏的思维，给定关于石油衍生品的事实，不能得出关于航空油料的任何结论。

37. 2011 年 8 月，中国第一艘航空母舰“瓦良格”号出海试航，中国拥有航母会对美国海军在西太平洋的制海权构成潜在的挑战，美军对此感到担忧并持防范态度。然而，美国一位富有实战经验的海军专家却希望中国建造更多的航母。

如果以下哪项陈述为真，能够最好的解释这位专家看似矛盾的态度？

- A. 2011 年 8 月，越南与美国在南海进行了联合军事演习。
- B. 美国、日本、印度等国借中国航母试航之机，掀起新的“中国威胁论”的鼓噪。
- C. 中国海军并未充分部署支持航母的运输船和加油船。护卫航母的驱逐舰和潜艇也十分脆弱。
- D. 航母需要支持和护卫，建造航母越多，用来制造支持航母的其他舰艇和飞机的资源越少。

38. 哲学家：在 18 世纪，某篇关于运动是绝对的论文断言，一个物体在一段时间内的位置变化可以不参照任何其他物体的位置而测得。不过，一位颇受尊重的物理学家声称，这篇论文是不连贯的。既然一篇不连贯的论文不能认为是对实在的描述，故运动不可能是绝对的。

这个哲学家的论证使用了下面哪一种论证方法或技巧？

- A. 使用专业术语来说服别人。

- B. 依赖某个专家的权威来支持一个前提。  
 C. 使用实验结果来说明所提到的位置变化时合理的。  
 D. 观察到某物在实验条件下是某种情况，推出该物在任何情况下也是这种情况，
39. 国内油价与国际油价相比一向是“涨快跌慢”，原因之一是我国成品油调价依据三地原油价格变动超过 4% 这个边界条件。比如，从 100 美元一桶涨到 104 美元时，我们就跟着涨价；但是，从 104 美元回调 4% 再降价，则要等价格回落到 99.84 美元。两个条件实际上以下哪项陈述最好地指出了上述论证的缺陷？
- A. 上述论证没能说明，国内油价不合理是由多种原因造成的。  
 B. 上述论证没能说明，国内油价不合理的根本原因在于行业垄断。  
 C. 上述论证没能说明，以 4% 为边界条件，则油价越高，国内反应越迟钝。  
 D. 上述论证没有从相同的价格基点出发进行比较，如果涨价的基点是 100 美元，对降价的条件分析也应该以 100 美元为基点。
40. 在某个班级中，L 同学比 X 同学个子矮，Y 同学比 L 同学个子矮，但 M 同学比 Y 同学个子矮，所以 Y 同学比 J 同学个子矮。  
 必须增加以下哪项陈述前提，才能合逻辑地推出上述论述？
- A. J 同学比 L 同学个子高。  
 B. X 同学比 J 同学个子高。  
 C. L 同学比 J 同学个子高。  
 D. J 同学比 M 同学个子高。

41~45 题基于以下共同的题干：

一家剧院计划在秋季的 7 周内上演 7 个剧目，它们是 F、G、J、K、O、R、S。每周上演一个剧目，每个剧目恰好演出一周。剧目的安排必须满足以下条件：

- (1) G 必须在第三周上演。  
 (2) O 和 S 不能连续演出。  
 (3) K 必须安排在 J 和 S 之前上演。  
 (4) F 和 J 必须安排在连续的两周中演出。

41. 如果把 F 安排在第五周上演，以下哪项正确地列出了所有可以安排在第七周上演的剧目？
- A. J、S  
 B. O、R  
 C. O、R、S  
 D. K、O、R
42. 对于任何一种可接受的安排，以下哪项一定为真？
- A. F 被安排在 K 之后的某一周。  
 B. G 恰好被安排在 O 之前的那一周。  
 C. J 被安排在第一周。  
 D. R 被安排在第二周或第七周。
43. 如果把 R 安排在第五周，把 O 安排在第二周，则可供选择的安排方式有
- A. 2 种  
 B. 3 种  
 C. 5 种  
 D. 6 种
44. 如果把 S 安排在第六周，那么必须把 R 安排在哪一周？
- A. 第二周  
 B. 第四周  
 C. 第五周  
 D. 第七周
45. 如果 O 恰好被安排在 J 之前的那一周，以下哪项一定为真？
- A. 把 F 安排在 O 之前  
 B. K 被安排在 G 之前的某一周。  
 C. R 被安排在第一周或第二周。  
 D. S 恰好安排在 K 之后的那一周。

46~50 题基于以下共同的题干：

一个委员会工作两年，每年都由 4 人组成，其中 2 名成员来自下面 4 位法官：F、G、H 和 I，另外 2 名成员来自下面 3 位科学家：V、Y 和 Z。每一年，该委员会有 1 名成员做主席。在第一年做主席的成员在

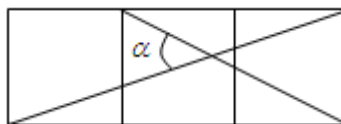


4. 已知数列  $a_1, a_2, a_3, \dots, a_n, \dots$  的通项是  $a_n = \frac{2n+1+(-1)^{n+1}}{4}$ , 则该数列前 101 项的和等于 ( )。

A. 2501    B. 2551    C. 2601    D. 2651

5. 三个边长为 1 的正方形拼成如图所示的图形, 图中有两条线段相交的锐角为  $\alpha$ ,  $\tan \alpha = ( )$

- A.  $\frac{\sqrt{3}}{2}$     B.  $\frac{\sqrt{2}}{2}$     C.  $\frac{1}{2}$     D. 1



6. 若  $x = \frac{\sqrt{5}-3}{2}$ , 则代数式  $x(x+1)(x+2)(x+3)$  的值为 ( )

- A. -1    B. 0    C. 1    D. 2

7. 设 A、B 两车分别从甲、乙两地同时出发, 沿同一公路相向匀速行驶, 两车第一次相遇于距甲地 20 公里处仍继续前行, 当分别到达乙、甲两地后立即按原速原路返回, 途中第二次相遇距乙地 10 公里处, 则甲、乙两地相距 ( ) 公里。

A. 35    B. 40    C. 45    D. 50

8. 设 O 为坐标轴的原点,  $a, b, c$  的大小关系如图所示, 则  $\left| \frac{1}{a} + \frac{1}{b} \right| - \left| \frac{1}{b} - \frac{1}{c} \right| + \left| \frac{1}{c} - \frac{1}{a} \right|$  的值是 ( )。

- A. 0    B.  $\frac{2}{a}$     C.  $\frac{2}{b}$     D.  $\frac{2}{c}$



9. 若函数  $f(x)$  是周期为 6 的奇函数, 则  $\sin\left(f(-7) + f(1) + \frac{\pi}{12}\right) \cdot \cos\left(f(6) + \frac{\pi}{12}\right)$  的值等于 ( )。

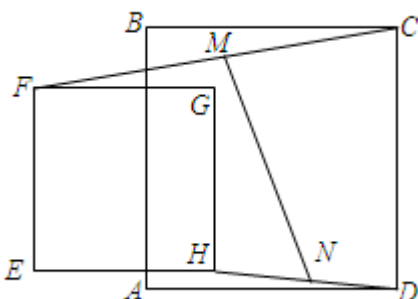
- A.  $\frac{1}{4}$     B.  $\frac{1}{2}$     C.  $\frac{\sqrt{2}}{2}$     D.  $\frac{\sqrt{3}}{2}$

10. 若复数  $z_1 = \frac{1-i}{1+i}$ ,  $z_2 = \frac{(1+i)^2}{(1-i)^2}$ , 则  $|z_1 - z_2| = ( )$ 。

- A. 1    B.  $\sqrt{3}$     C.  $\sqrt{2}$     D. 2

11. 如图, 面积为 9 平方厘米的正方形  $EFGH$  在面积为 25 平方厘米的正方形  $ABCD$  所在平面上移动, 始终保持  $EF \parallel AB$ 。记线

2011 年 10 月在职 GCT 真题 (A)



在面积为 25 平方厘米的正方形  $ABCD$  所在平面上移动, 始终保持  $EF \parallel AB$ 。记线

36 页

段  $CF$  的中点为  $M$ ， $DH$  的中点为  $N$ ，则线段  $MN$  的长度是 ( ) 厘米。

- A.  $\frac{25}{4}$
- B.  $\frac{73}{4}$
- C.  $\frac{\sqrt{73}}{2}$
- D.  $\frac{\sqrt{75}}{2}$

12. 有长为 1cm, 2cm, 3cm, 4cm, 5cm, 6cm 的六根细木条，任取其中 3 根为边能构成一个三角形的概率为 ( )。

- A.  $\frac{1}{5}$     B.  $\frac{1}{4}$     C.  $\frac{3}{10}$     D.  $\frac{7}{20}$

13. 某股民用 30000 元买进甲乙两种股票，在甲股票下跌 10%，乙股票升值 8% 时全部卖出，赚得 1500 元，则该股民原来购买的甲乙两种股票所用钱数的比例为 ( )。

- A. 2:3    B. 3:2    C. 1:5    D. 5:1

14. 参数方程  $\begin{cases} x = \sin t + \cos(\frac{\pi}{6} - t) + 2 \\ y = \cos t + \sin(\frac{\pi}{6} - t) - 3 \end{cases}$  在  $xOy$  平面上表示的曲线是 ( )。

- A. 圆    B. 椭圆    C. 双曲线    D. 抛物线

15. 一个盛满水的圆柱形容器，其底面半径为 1，母线长为 3。将该容器在水平的桌面上平稳地倾斜使水缓慢流出。当容器中剩下的水为原来的  $\frac{2}{3}$  时，圆柱的母线与水平面所成的角等于 ( )。

- A.  $30^\circ$     B.  $45^\circ$     C.  $60^\circ$     D.  $75^\circ$

16. 当  $x \rightarrow 3^-$  时，下述选项中为无穷小量的是 ( )。

- A.  $\frac{x-3}{x^2-9}$     B.  $\ln(3-x)$     C.  $\sin \frac{1}{x-3}$     D.  $e^{x-3}$

17. 若  $f(x)$  在  $x_0$  处可导，且  $f(x_0) = a$ ， $f'(x_0) = b$ ，而  $|f(x)|$  在  $x_0$  处不可导，则 ( )

- A.  $a=0, b=0$     B.  $a=0, b \neq 0$
- C.  $a \neq 0, b=0$     D.  $a \neq 0, b \neq 0$

18. 若方程  $x - e \ln x - k = 0$  在  $(0, 1]$  上有解，则  $k$  的最小取值为 ( )。



- A. -1    B.  $\frac{1}{e}$     C. 1    D.  $e$

19. 若函数  $y(x) = \int_2^{x^2} e^{-\sqrt{t}} dt$ , 则  $\left. \frac{d^2 y(x)}{dx^2} \right|_{x=-1} = ( \quad )$ 。

- A. 0    B. 1    C.  $4e^{-1}$     D.  $4e$

20. 若  $\sqrt{1-x^2}$  是  $xf(x)$  的一个原函数, 则  $\int_0^1 \frac{1}{f(x)} dx = ( \quad )$ 。

- A. -1    B.  $\frac{\pi}{4}$     C.  $-\frac{\pi}{4}$     D. 1

21. 设  $f(x)$  在  $[0, 2]$  上单调连续,  $f(0) = 1$ ,  $f(2) = 2$ , 且对任意  $x_1, x_2 \in [0, 2]$  总有

$f\left(\frac{x_1+x_2}{2}\right) > \frac{f(x_1)+f(x_2)}{2}$ ,  $g(x)$  是  $f(x)$  的反函数,  $P = \int_1^2 g(x) dx$ , 则  $( \quad )$ 。

- A.  $0 < P < 1$     B.  $1 < P < 2$     C.  $2 < P < 3$     D.  $3 < P < 4$

22. 在  $(x_1 \ x_2 \ x_3) \begin{pmatrix} 1 & 0 & -2 \\ 2 & 4 & -1 \\ 0 & -3 & 5 \end{pmatrix} \begin{pmatrix} x_1 \\ x_2 \\ x_3 \end{pmatrix}$  的展开式中,  $x_2 x_3$  项的系数是  $( \quad )$ 。

- A. -4    B. -2    C. 2    D. 3

23. 对任意的  $n$  阶矩阵  $A, B, C$ , 若  $ABC = E$  ( $E$  是单位矩阵), 则下列 5 式中:

- (i)  $ACB = E$     (ii)  $BCA = E$     (iii)  $BAC = E$   
 (iv)  $CBA = E$     (v)  $CAB = E$

恒成立的有  $( \quad )$  个。

- A. 1    B. 2    C. 3    D. 4

24. 若方程组  $\begin{cases} x_1 + x_2 + ax_3 = 0 \\ -x_1 + ax_2 + x_3 = a^2 \\ x_2 + x_3 = -4 \end{cases}$  有解, 则其中  $a = ( \quad )$ 。

- A. -2    B. -1    C. 1    D. 2

25. 若  $A = \begin{pmatrix} 1 & -1 & 0 \\ -1 & 1 & 0 \\ -2 & a & 2 \end{pmatrix}$  与  $B = \begin{pmatrix} 2 & 0 & 0 \\ 0 & 2 & 0 \\ 0 & 0 & 0 \end{pmatrix}$  相似, 则  $a = ( \quad )$ 。

- A. 2    B. 1    C. -1    D. -2

## 第四部分 外语运用能力测试(英语) A 卷

(50 题, 每小题 2 分, 满分 100 分)

## Part One Vocabulary and Structure

## Directions:

There are ten incomplete sentences in this part. For each sentence there are four choices marked A, B, C and D. Choose the one that best completes the sentence. Mark your answer on the **ANSWER SHEET** with a single line through the center.

- If the car you have rented is clearly unsatisfactory, you can always \_\_\_\_\_ it for another.  
A. shift                      B. exchange                      C. switch                      D. replace
- Every manager needs a secretary that he can \_\_\_\_\_ to take care of something that may occur in his absence.  
A. bring on                      B. hold on                      C. count on                      D. focus on
- The shirt is a real bargain because it is good in quality and \_\_\_\_\_ in price.  
A. valuable                      B. remarkable                      C. available                      D. reasonable
- Shopping for cloths is not the same experience for a man \_\_\_\_\_ it is for a woman.  
A. when                      B. that                      C. as                      D. than
- Nina \_\_\_\_\_ back home if she had known that her husband would go to the bus stop to meet her.  
A. couldn't have walked                      B. shouldn't have walked  
C. mustn't have walked                      D. wouldn't have walked
- A news report is usually very short, \_\_\_\_\_ when it is about something very important.  
A. besides                      B. except                      C. apart from                      D. except for
- In this advanced course, students are required to take performance tests at monthly \_\_\_\_\_.  
A. gaps                      B. lengths                      C. distances                      D. intervals
- American women were \_\_\_\_\_ the right to vote until 1920.  
A. ignored                      B. refused                      C. derived                      D. denied
- Seldom \_\_\_\_\_ any mistakes during my past few years of working there.  
A. would I make                      B. have I made                      C. I made                      D. shall I make
- The proposal seems \_\_\_\_\_ to oppose the government economic policy.  
A. designed                      B. to design  
C. have designed                      D. to have designed

## Part Two Reading Comprehension

## Directions:

In this part there are three passages and one chart, each followed by five questions or unfinished statements.

For each of them, there are four choices marked A, B, C and D. Choose the best one and mark your answer on the **ANSWER SHEET** with a single line through the center.

**Questions 11-15 are based on the following passage:**

Happiness is becoming a huge area in psychological research and even in government policy, with the UK government exploring a “happiness index”. It is tough, though, to define exactly what happiness is, and what makes us happy.

There are two broad ways of looking at happiness: short-term happiness (a great cookie, a bottle of wine) and long-happiness (financial security, achieving your goals). Both types of happiness are valid, and important. The problem is, they’re often in competition.

Let’s say you’ve got a goal of losing 50 pounds this year. You know you’d be happier and healthier if you weren’t carrying that extra weight. To achieve long-term happiness, you need to go on a diet. In the short-term, though, it’s not that easy. A chocolate cake, or a large glass of wine, might just be the thing to cheer you up at the end of a long day - or to celebrate with friends. It’s the same with lots of other goals.

If you’ve got a tendency to prioritize long-term happiness at the expense of day-to-day pleasures, you should start looking for some small ways to bring a little joy back into your life. I am not suggesting that you go out and get drunk every night, or that you stuff yourself with cake. There are plenty of other ways to enjoy yourself. Don’t pin all your hopes of happiness on some far-off future, though. There’s no point working a 60-hour week and making yourself thoroughly miserable in the belief that things will be perfect as soon as possible you’re making a six-figure salary.

11. A proper title for the passage is \_\_\_\_\_.  
 A. Happy Thereafter. B. Beyond Happiness.  
 C. Happiness in. Happiness Out. D. Happy now or in the Future?
12. Paragraph 1 is mainly about \_\_\_\_\_.  
 A. what makes us happy B. how to understand happiness  
 C. how can we be happier D. what happiness can bring us
13. The example in paragraph 3 is meant to emphasize that \_\_\_\_\_.  
 A. both short-term happiness and long-term happiness is important  
 B. we tend to seek short-term happiness instead of long-term happiness  
 C. people prefer long-term happiness to short-term happiness  
 D. short-term happiness may contradict long-term happiness
14. The word “prioritize” (last paragraph) probably means “\_\_\_\_\_”.  
 A. treat something as more important than others  
 B. improve something 's value or quality  
 C. put extra emphasis on something  
 D. look for something that is difficult to find
15. The author suggests in the last paragraph that sacrificing short-term happiness for long-term happiness \_\_\_\_\_.  
 A. works well B. can be justified  
 C. is not worthwhile D. makes no difference

**Questions 16-20 are based on the following passage:**

Thanks to the introduction of new drugs, many of the early problem in organ transplants, such as tissue rejection, have, to a great extent, now been solved. However, there remains a major problem. The people in need of transplant surgery far outnumber the available organs.

Many countries, such as Britain, have huge waiting lists people whose lives could be saved by being given a kidney, lung, heart or liver transplant. Sadly, many of them die before they research the top of the list.

Under the present British policy, people are asked to carry donor (捐赠人) cards, and/or put their names on the national donor register. Thus, if they lost their lives suddenly, for example, in a traffic accident, they have given permissions in advance of their death for their organs to be used. If they have not given done so, surgeons are faced with the task of asking the grieved relatives for permissions to use the organs of the dead. Of course, often the relatives are too upset even to think of such a thing until it is too late. Organ transplants have to take place quite soon after the death of the donor.

Dying and donating organs is not something most of us like to think about, and only about 14% of people have registered. Now it has been suggested that, instead of the present register, there should be a register of potential donors who haven't made up their minds.

16. Nowadays a major problem in transplant surgery \_\_\_\_\_.  
A. the shortage of qualified doctors  
B. the lack of transplant organs  
C. tissue rejection  
D. immature techniques
17. It can be inferred from the passage that transplant organ most likely come from \_\_\_\_\_.  
A. people who die in fatal accident  
B. criminals who are sentenced to death  
C. patients who die from serious disease  
D. people who are mentally healthy
18. What is the advantage of registering in advance to donate organs?  
A. The transplant may take place soon after the death of the donor.  
B. The donor's relatives would agree with the surgery.  
C. More people would choose donation of their organs after death.  
D. Surgeons will not be liable to any legal consequences.
19. The low percentage of people who have registered to donate organs indicates that \_\_\_\_\_.  
A. the present register system doesn't work  
B. dying and donating organs is an unpleasant issue  
C. very few people know how to donate their organs  
D. permissions from relatives is hard to obtain
20. What has been proposed to get more donors organs?  
A. Asking more people to register to donate organs after death.  
B. Having more people carry donor cards when they get around.  
C. Encouraging more people to consider organs donation through registering.  
D. Getting more people to donate organs by offering huge monetary rewards.

**Question 21-25 are based on the following passage:**

Recently, the Americans Health Association surveyed 1,000 people nationwide about their thoughts on

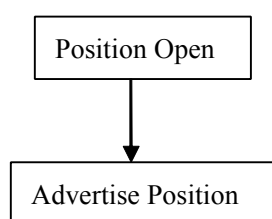
sodium and heart health. 61% said that they believe sea salt is low-sodium alternative to table salt. They can be forgiven to thinking so. Sea salt is marked as a healthy food, added to soups, potato chips and a wide variety of packaged snacks labeled “low sodium” and “healthy”. But in reality, sea salt and table salt are not terribly different, at least chemically. The real differences are in how the two are used in cooking.

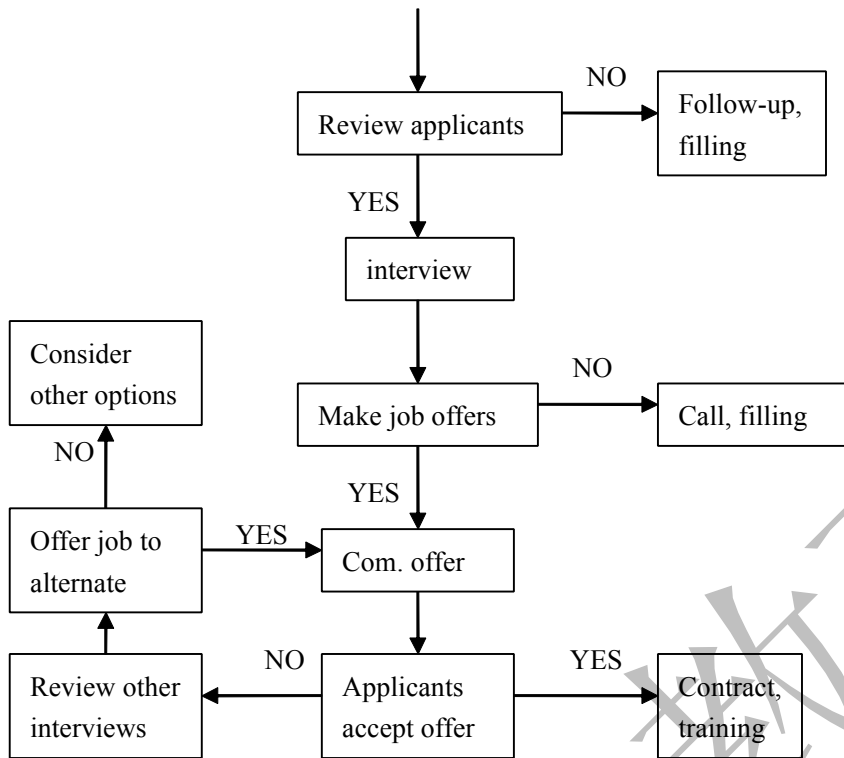
Table salt comes from underground salt deposits. Companies that sell it typically add something to keep it from clumping (结块). During processing, table is stripped of many of its natural minerals. Sea salt, on the other hand, is made from evaporated seawater. With little processing, it retains most of its mineral, which some cooks say give it a better flavor.

But both contains the same amount of sodium chloride (氯化钠) by weight, which means they contribute equally to totally sodium consumption and have the same effect on blood pressure. Officials recommend that adults consume no more than 2.300 milligrams of sodium a day, equivalent to a teaspoon salt. You should eat less if you are black, hypertensive (患高血压的) or older than 40. Yet most Americans consume more than double the amount they need, mostly processed foods, so it is best to limit salt - Of any kind.

21. According the survey, more than half the people believer that \_\_\_\_\_.  
 A. table salt should be used in cooking  
 B. it is necessary to eat sea product  
 C. sea salt is high-sodium product  
 D. sea is a healthier choice than table salt
22. The different between table salt and tea salt lies in that table salt \_\_\_\_\_.  
 A. contains more natural minerals than sea salt  
 B. forms clumps more easily than sea salt  
 C. taste better than sea salt  
 D. goes through less processing than sea salt
23. The word “strip” in Para. 2 is closest in meaning to “\_\_\_\_\_”.  
 A. break                      B. add                      C. remove                      D. change
24. According to the passage, the proper amount of salt consumption is related to one’s \_\_\_\_\_.  
 A. appetite                      B. age                      C. sex                      D. weight
25. According to the passage, Americans \_\_\_\_\_.  
 A. consume much more salt than they actually need  
 B. consume about 2.300 milligrams of salt a day  
 C. prefer fresh food to salted processed food  
 D. try to limit their salt consumption of any kind

**Questions 26-30 are based on the following chart:**





26. A proper title for the chart is “\_\_\_\_\_”.
- A. Schedule Chart for Job Hunting  
 B. Flow Chart for Recruitment Process  
 C. Descriptive Chart for an Open Position  
 D. Organization Chart for a Hunting Company
27. The chart is probably designed for \_\_\_\_\_.
- A. job applicants  
 B. school graduates  
 C. the company general manager  
 D. the human resources department
28. What happens right after the interview?
- A. The company will review other interviewees.  
 B. The company will notify who get an offer.  
 C. The applicants will confirm job offers with the company.  
 D. The applicants will call in to check whether they get the offer.
29. A work contract is signed when \_\_\_\_\_.
- A. all options have been considered  
 B. there is no more interviewee to review  
 C. the applicant accepts the company’s offer  
 D. the company finishes training for its new staff
30. What does “Com.” in “Com. Offer” possibly mean?
- A. Confirm  
 B. Company  
 C. Compensate  
 D. Communicate

**Part Three Cloze****Directions:**

There are ten blanks in the following passage. For each numbered blank, there are four choices marked A, B, C and D. Choose the best one and mark your answer on the **ANSWER SHEET** with a single line through the center:

Where do our favorite foods come from? The truth may 31 you. Did you know curry (咖喱) isn't Indian? Did you know Americans weren't the 32 to eat hamburgers? Or did you know pizza wasn't created in Italy?

First, let's talk about curry. Many people think the English found out about curry from people in India in the 1600s. But 33, wealthy English people were cooking with curry spices hundreds of years 34 British ships traveled to India. In fact, the word "curry" can be found in the English language as far back as 1377. Cooks of wealthy English families created curry dishes, and later these 35 caught on in other parts of England.

36 pizza, this dish was probably first made in Persia (what is now Iran). The Persians were eating round, flat bread with cheese in the 500s – nearly one thousand years before pizza caught on in Naples, Italy!

Finally, let's look at the truth behind 37. Many people think hamburgers are an American food. However, 38 some stories, hamburgers came from Hamburg, Germany. A German named Ouo Kuasw made the first hamburgers in 1891. Four years later, German sailors 39 hamburgers to Americans.

Where foods come from isn't nearly as 40 as how they taste – delicious! So, go get some of your favorite food and dig in.

- |                     |               |                |                   |
|---------------------|---------------|----------------|-------------------|
| 31. A. upset        | B. surprise   | C. annoy       | D. inspire        |
| 32. A. ones         | B. last       | C. first       | D. nation         |
| 33. A. in detail    | B. in short   | C. in turn     | D. in reality     |
| 34. A. before       | B. after      | C. when        | D. while          |
| 35. A. cooks        | B. families   | C. dishes      | D. places         |
| 36. A. Compared to  | B. As for     | C. But for     | D. In addition to |
| 37. A. chips        | B. pizza      | C. curry       | D. hamburgers     |
| 38. A. according to | B. owing to   | C. in case of  | D. in spite of    |
| 39. A. carried      | B. introduced | C. transported | D. moved          |
| 40. A. good         | B. far        | C. important   | D. long           |

**Part Four Dialogue Completion****Directions:**

In this part, there are ten short incomplete dialogues between two speakers, each followed by four choices marked A, B, C and D. Choose the one that most appropriately suits the conversational context and the best completes the dialogue. Mark your answer on the **ANSWER SHEET** with a single line through the center:

41. **A:** I went to a date with Sammy last weekend.

**B:** Really? \_\_\_\_\_?

**A:** I couldn't ask for a better night.

A. Is she nice

B. How was it

C. Is it a beautiful night

D. Did you like her

42. **Student:** How long can I keep the book?

**Librarian:** \_\_\_\_\_.

- A. Any period longer than four weeks, you will be fined
- B. You can check it on the computer over there
- C. Four weeks, but you can renew it if you need it longer
- D. At most four weeks if you don't mind

43. **A:** Hello, Ann, do you still remember you said you'd like to see the actor of the movie Titanic?

**B:** \_\_\_\_\_

**A:** He is here at our university now.

- A. No, I don't.
- B. Yes, why?
- C. Yes, so what?
- D. No, I don't like him.

44. **A:** Please remember me to your parents.

**B:** \_\_\_\_\_.

- A. They remember seeing you once
- B. Thanks a lot. I will
- C. I am afraid they have poor memories
- D. You can contact them directly

45. **Teacher:** Are you following me?

**Student:** \_\_\_\_\_

- A. I'm afraid not.
- B. Can you walk slowly, please?
- C. Let me think of it.
- D. Who knows?

46. **Receiver:** Would you like to leave a message? I'll let Mr. Cohen know as soon as he comes back.

**Caller:** \_\_\_\_\_.

- A. I hope he will call me back
- B. No. I'll call somebody else
- C. I don't think it's appropriate
- D. Don't bother. I'll try his call

47. **David:** If things go on like this. I'll start preparing my resume again.

**Colleague:** \_\_\_\_\_

- A. Come on. It's not that bad.
- B. Yes, you are good at it.
- C. Really? Congratulations!
- D. It's none of my business.

48. **Wife:** Honey, we have only one egg and half a bottle of milk in the fridge. Oh, and we are running out of toilet paper...

**Husband:** \_\_\_\_\_

- A. Ok, ok. I'll go to the store right now.
- B. Yes, honey. Let me know what I can do.
- C. What's missing, dear?
- D. Sure, I'll get more next time.

49. **Man:** It's a long journey. You look tired. \_\_\_\_\_?

**Woman:** Yes. Could you take that suitcase, please?

**Man:** Sure.



- A. Where's your luggage  
 B. How can I help you  
 C. May I help you with anything  
 D. Do you mind may help

50. **A:** Can you keep an eye on my bag?

**B:** \_\_\_\_\_

**A:** No. I'm going to the bathroom.

A. Sure. What is it?

B. Oh. Do you want a favor?

C. Go ahead. No problem.

D. Sure. Will you be long?

语文参考答案

题号	1	2	3	4	5	6	7	8	9	10
答案	D	D	A	B	D	A	B	D	C	B
题号	11	12	13	14	15	16	17	18	19	20
答案	D	B	C	D	D	B	A	B	A	D
题号	21	22	23	24	25	26	27	28	29	30
答案	D	A	C	B	C	C	A	B	A	D
题号	31	32	33	34	35	36	37	38	39	40
答案	C	B	A	D	B	C	D	B	A	D
题号	41	42	43	44	45	46	47	48	49	50
答案	B	C	D	D	A	C	B	D	C	A

逻辑参考答案

题号	1	2	3	4	5	6	7	8	9	10
答案	C	A	A	C	B	C	B	C	C	C
题号	11	12	13	14	15	16	17	18	19	20
答案	D	C	C	B	B	C	D	C	B	A
题号	21	22	23	24	25	26	27	28	29	30
答案	C	B	C	D	A	D	B	B	A	C
题号	31	32	33	34	35	36	37	38	39	40
答案	D	D	B	A	C	C	B	B	C	A

题号	41	42	43	44	45	46	47	48	49	50
答案	C	A	C	D	B	B	D	A	C	D

数学参考答案

题号	1	2	3	4	5	6	7	8	9	10
答案	D	B	B	C	D	A	D	B	A	C
题号	11	12	13	14	15	16	17	18	19	20
答案	C	D	C	A	B	D	B	C	A	C
题号	21	22	23	24	25					
答案	A	A	B	A	D					

英语参考答案

题号	1	2	3	4	5	6	7	8	9	10
答案	B	C	D	C	D	B	D	D	B	A
题号	11	12	13	14	15	16	17	18	19	20
答案	D	B	D	A	C	B	A	A	C	C
题号	21	22	23	24	25	26	27	28	29	30
答案	D	A	C	B	A	C	D	B	C	A
题号	31	32	33	34	35	36	37	38	39	40
答案	B	C	D	A	C	B	D	A	B	C
题号	41	42	43	44	45	46	47	48	49	50
答案	B	C	B	B	A	D	A	A	C	D

新阳光教育

新阳光教育